




Решаем примеры.



$$\text{?} + \text{?} = \text{?}$$



$$\text{?} + \text{?} = \text{?}$$



$$\text{?} + \text{?} = \text{?}$$

Считаем.

Сосчитай, сколько каждого животного. Запиши.

